

一、選擇題：每題 2 分，共 20 分

1. () 7 點的時分，鐘面上分針會指在哪一個數字？ ① 6 ② 7 ③ 12
2. () 「4 的 7 倍」和哪一個選項的意思相同？ ① $4+7$ ② 7×4 ③ 4×7
3. () 3 個 7 合起來是多少？ ① 37 ② 10 ③ 21
4. () 「 9×7 」比「 9×5 」多幾個 9？ ① 2 個 ② 4 個 ③ 18 個
5. () 「5 時 59 分」的時針最接近哪一個數字？ ① 5 ② 6 ③ 12
6. () 姊姊買了 59 元的筆記本和 39 元的彩色筆，付了一些錢後，找回 2 元，姊姊付了多少元？ ① 98 元 ② 96 元 ③ 100 元
7. () 「 $5 \times 3 = 15$ 」中，乘數是哪一個數？ ① 5 ② 3 ③ 15
8. () 鐘面上「時針」指在 7 和 8 之間，「分針」指在 9，是 ① 7 點 9 分 ② 7 點 45 分 ③ 8 點 45 分
9. () 短針從 1 走到 3，經過了多久？ ① 2 小時 ② 10 分鐘 ③ 2 分鐘
10. () 鐘面上有 1~12 的數字，5 點 10 分的時分，鐘面上「分針」會指在哪一個數字？ ① 2 ② 5 ③ 10





二、回答問題：除(1)、(3)每格 1 分，其他每格 2 分，共 14 分

(1) 弟弟晚上 7 時開始吃飯，吃了半小時，吃完是 () 時 () 分

(2) 弟弟從下午 2 時 30 分開始寫功課，寫完是下午 4 時 30 分，他寫了 () 小時。

(3) 鐘面時刻是 2 點多的打 ，是 3 點多的畫 ：

1() 2() 3() 4()

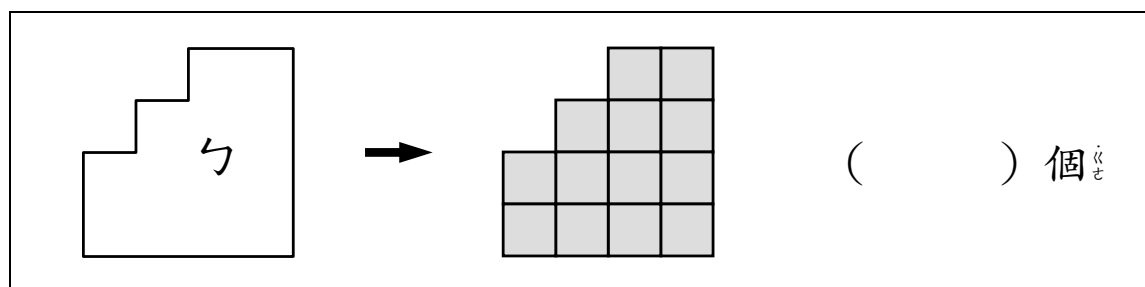


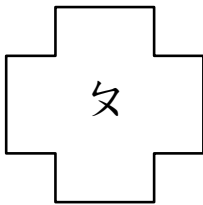
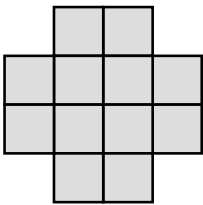
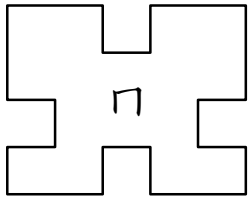
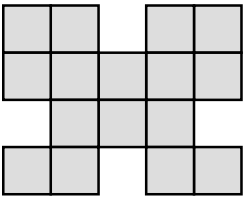
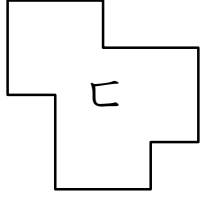
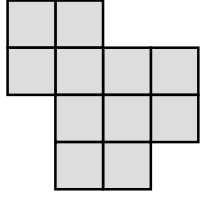
(4) 在 () 中填入 $>$ 、 $<$ 或 $=$

① 7×7 () 8×6 ② 6×6 () 4×9 ③ 2×9 () $6 + 6 + 6$

三、看圖填看 (除(2)每格 1 分，其餘 2 分，共 20 分)

1. (1) 下面四個圖形各需用幾個 才能排滿？

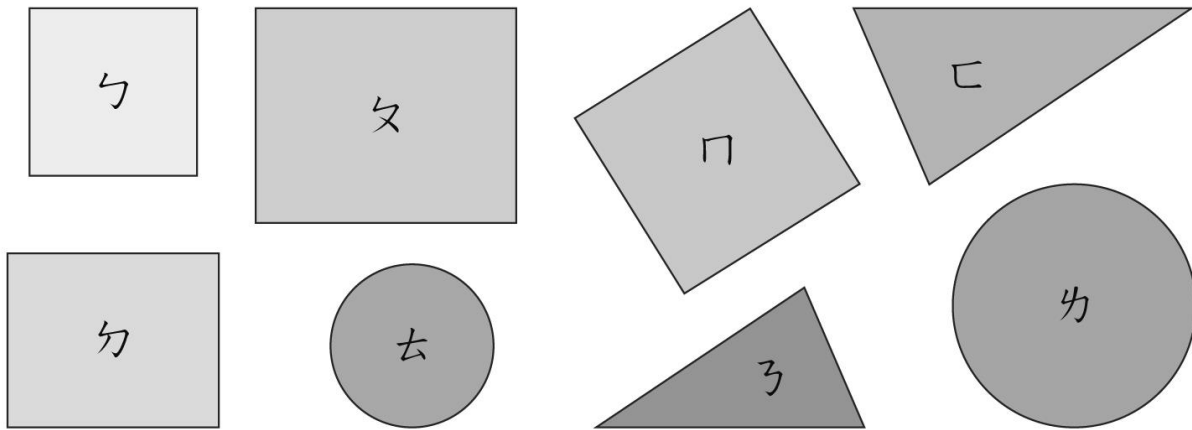


 →  () 個
 →  () 個
 →  () 個

(2) 將上面圖形的面由大到小依序填入代號：每格 1 分，共 4 分

() > () > () > ()

2、比比看，再回答問題。



(1) 圓形圖卡 () 的面比較大。

(2) 三角形圖卡 () 的面比較小。

(3) 正方形圖卡 () 的面比較大。


(4) 長方形圖卡 () 的面比較小。

四、圈圈看：每題 2 分，共 8 分


1. 有 6 隊參加比賽，每隊 8 人，共有幾人？圈出正確算式：

($8 \times 6 = 48$, $6 \times 8 = 48$)


2. 圈出正確的時刻。



① (5 點 32 分 , 6 點 25 分)



② (1點^カ57分^ニ , 2點^カ57分^ニ)



③ (3點^カ3分^ニ , 3點^カ15分^ニ)

五、 寫^テ出^セ答^コ案^ヲ : 每^ク題^ニ 1分^ニ , 共^ニ 8分^ニ

- (1) $4 \times 8 = (\quad)$ (2) $3 \times 9 = (\quad)$ (3) $5 \times 7 = (\quad)$ (4) $6 \times 8 = (\quad)$ (5) $8 \times 8 = (\quad)$ (6) $9 \times 9 = (\quad)$ (7) $7 \times 6 = (\quad)$ (8) $8 \times 4 = (\quad)$

六、 應^コ用^ノ題^ヲ : 每^ク題^ニ 3分^ニ , 共^ニ 30分^ニ

1. 靜^シ香^カ有^ク 6個^ノ 5元^ノ硬^チ幣^ヲ , 合^セ起^シ來^ル是^レハ多^ク少^ク幾^ク元^ノ?

用^キ加^ハ法^ヲ算^ス算^式ヲ記^ス作^ル :

用^キ乘^ハ法^ヲ算^ス算^式ヲ記^ス作^ル :

答^コ : ()元^ノ

2. 一^ト包^ノ色^シ紙^ハ有^ク 5張^ニ , 每^ク包^ノ賣^ル 8元^ノ , 小^シ夫^ヲ買^フ 9包^ヲ , 要^ス付^ク幾^ク元^ノ?

答^コ : ()元^ノ

3. 一^ト杯^ノ果^シ汁^ハ 35元^ノ , 靜^シ香^カ買^フ了^ク 2杯^ヲ , 付^ク 100元^ヲ給^ク老^シ闆^ニ , 可^ク以^テ找^ク回^ル多^ク少^ク幾^ク元^ノ?

答^コ : ()元^ノ

4. 胖^チ虎^ノの^シ色^シ紙^ハ是^レ妹^ノ妹^ノの^シ 4倍^ニ , 妹^ノ妹^ノ有^ク 3張^ニ , 胖^チ虎^ノ有^ク幾^ク張^ノ色^シ紙^ニ?

答^コ : ()張^ニ

5. 一隻螞蟻有 6 隻腳，9 隻螞蟻有幾隻腳？

答：() 隻腳

6. 大雄有 98 元，買了 1 本 42 元的筆記本後，爸爸又給他 35 元，他現在有幾元？

答：() 元

7. 靜香有 48 張遊戲卡，小夫比靜香少 36 張，兩個人共有幾張遊戲卡？

答：() 張遊戲卡

8. 小明有 24 元，小華有 35 元，兩個人都想合買一塊 80 元的蛋糕，還不夠多少元？

答：() 元

9. 小明有 24 元，小華有 35 元，兩個人都想合買一個玩具，但是還不夠 15 元，這個玩具多少元？

答：() 元

10. 一盒銅鑼燒有 28 片，大雄吃掉 6 片，哆啦 A 夢吃掉 7 片，還剩下幾片？

答：() 片

座號：

姓名：

[請多檢查兩遍喔！]