

班級： \_\_\_\_\_ 座號： \_\_\_\_\_ 姓名： \_\_\_\_\_ 得分： \_\_\_\_\_ 家長簽章： \_\_\_\_\_

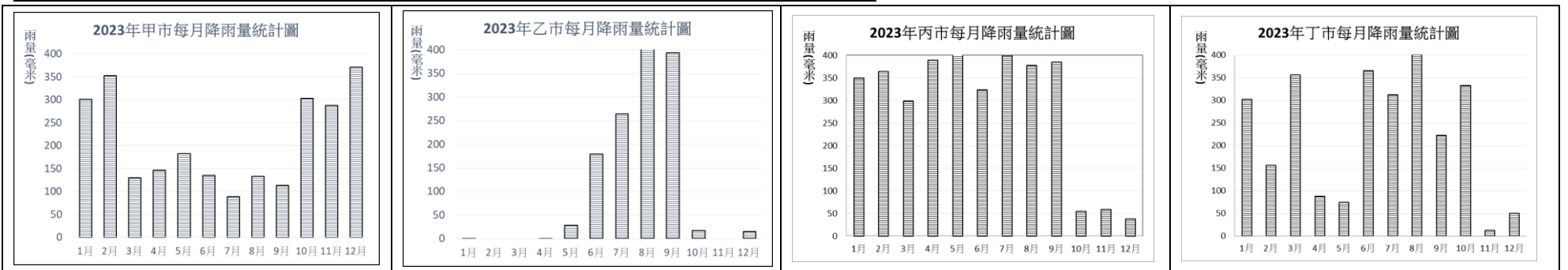
一、是非題(每題 2 分，20 分)

- ( ) 1. 法律由政府制定，因此只規範了人民必須遵守的事項，政府本身不受法律約束。
- ( ) 2. 到金門旅遊可以看到許多以紅磚、紅瓦為建材的閩南式建築。
- ( ) 3. 原住民族可以回復自己族群的傳統名字，是政府透過修改法律保障原住民族權利的例子。
- ( ) 4. 在網路上留下罵人文字，之後只要刪除，就不會觸法。
- ( ) 5. 不同的文化有不同的社會規範，我們應入境隨俗，才不會做出失禮的行為。
- ( ) 6. 在臺灣，每個孩子年滿 16 歲時，依法都必須舉辦「做十六」成年禮，來慶賀成年。
- ( ) 7. 法律之前人人平等，因此不應為了少數族群的特殊狀況，另外訂定法律。
- ( ) 8. 河水不停的流動，因此河流具有自我清淨的功能，人為的汙染不會對河流影響太久。
- ( ) 9. 河川上游通常地勢平坦，會吸引較多的人口聚集生活。
- ( ) 10. 早期陸上運輸不發達的時代，臺灣河川常造成先民南北拓墾的阻礙。

二、選擇題(每題 2 分，20 分)

- ( ) 1. 以下哪一個情況有機會申請國家賠償？①在電影院裡上下樓梯時跌倒 ②路邊走路時被酒駕的摩托車撞到 ③在公園滑輪場溜直排輪時因地面不平摔傷 ④颱風侵襲時家裡的玻璃被強風吹破
- ( ) 2. 目前臺灣的電視節目分級，共分成幾級？①5 級 ②6 級 ③4 級 ④3 級
- ( ) 3. 使用別人網路上的文章、圖片時，應注意尊重別人的什麼權利？①言論權 ②著作權 ③自由權 ④網路權
- ( ) 4. 要了解基督教的博愛精神，可閱讀以下何者？①聖經 ②心經 ③金剛經 ④基督經
- ( ) 5. 以下有關法律上「兒童」與「少年」的敘述，何者正確？①未滿 18 歲的人都稱為兒童 ②未滿 18 歲的人都稱為少年 ③未滿 12 歲的人都稱為少年 ④未滿 12 歲的人都稱為兒童
- ( ) 6. 以下對於臺灣河川的敘述，何者有誤？①多數河川呈現東西走向 ②多數河川具有坡度陡、水流急的特性 ③因為雨量充分，臺灣河川一年中極少出現水量不足的狀況 ④能夠提供生活與灌溉用水
- ( ) 7. 位於淡水河支流大漢溪上游的桃園大溪，百年前曾經非常繁榮，北部山區生產的樟腦和茶葉等貨品常常被集中到此處，然後上船運往外國販售，後來因為河道淤積，大溪才逐漸沒落。請問，大溪的沒落，與以下何者有關？①淡水河的灌溉功能 ②淡水河的運輸功能 ③樟腦與茶葉的產量 ④淡水河對陸運交通的阻礙。
- ( ) 8. 以下對於水庫的敘述，何者有誤？①具有發電的功能 ②具有儲水的功能 ③水庫興建前，水庫淹沒區的居民必須遷村 ④具有生態保護的功能。
- ( ) 9. 以下有關西螺大橋的敘述，何者有誤？①曾是臺灣最長橋樑 ②橫跨西螺溪兩岸 ③完工後有助於臺灣西部地區整體的經濟發展 ④完工前橋樑兩岸的人民必須靠竹筏通行。
- ( ) 10. 基隆河流經臺北市區的河道蜿蜒，每逢大雨常常淹水，請問，政府採取了什麼方式解決上述的淹水問題？①將部分彎取河道截彎取直 ②將基隆河河面加寬 ③在下游地區另外挖出一條支流紓解淹水 ④將基隆河河道加深。

三、觀察以下四個城市的雨量統計圖，回答問題(每格 2 分，18 分)



- ( ) 1. 大雄想住在夏季多雨，冬季乾燥少雨的城市，你會建議他選哪一個城市？①甲 ②乙 ③丙 ④丁
- ( ) 2. 承上題，這個城市如果在臺灣，最有可能是以下何者？①臺北 ②宜蘭 ③花蓮 ④臺南
- ( ) 3. 承第 2 題，以下何者是這個城市夏季降雨的主要原因？①東北季風 ②西南季風 ③東南季風 ④西北季風
- ( ) 4. 根據丙市的降雨型態，丙市最有可能出現什麼災害？①地震 ②淹水 ③乾旱 ④海嘯
- ( ) 5. 根據乙市的降雨圖，每年 11 月到隔年 4 月期間，乙市最有可能出現什麼災害？①地震 ②淹水 ③乾旱 ④海嘯
- ( ) 6. 把基隆的降雨型態畫成降雨圖，最有可能是上述何者？①甲 ②乙 ③丙 ④丁

7. 承上題，基隆整年度的降雨，除了季風的因素外，還有哪些因素？請寫出兩種。

答：\_\_\_\_\_ 和 \_\_\_\_\_。

8. 上個月山陀兒颱風侵襲臺灣，基隆降下了超大豪雨，許多鄰近山區的地方，泥沙和土石伴隨著洪水傾瀉而下，造成了嚴重的災情。請問，「泥沙和土石伴隨著洪水傾瀉而下」的這種災害型態，稱為什麼？

答：\_\_\_\_\_。

基隆市五堵國民小學 113 學年度第一學期期中評量五年級社會科試卷

班級： \_\_\_\_\_ 座號： \_\_\_\_\_ 姓名： \_\_\_\_\_ 得分： \_\_\_\_\_ 家長簽章： \_\_\_\_\_

四、配合題(每題 2 分，16 分)

作答說明：請依據底下 8 個題目的內容，判斷每一題的狀況分別屬於框框內的哪一個選項，並將代號填入( )內。

A. 風俗習慣 B. 宗教信仰 C. 倫理道德 D. 法律

- ( ) 1. 小明在除夕那天拿到阿公給他的壓歲錢。
- ( ) 2. 日本人吃麵時發生響亮的吸麵聲。
- ( ) 3. 大雄在公車上讓座給一位老婆婆。
- ( ) 4. 佛教徒不殺生，飲食上不吃葷食。
- ( ) 5. 缺錢的胖虎，本想偷拿小夫的錢包，但是擔心將來死後會到地獄受苦，才及時停止偷竊行為。
- ( ) 6. 五堵國小開設課後照顧班給有需求的小朋友。
- ( ) 7. 小新的爸爸因為闖了紅燈，被警察攔了下來。
- ( ) 8. 小丸子下課時不小心跌倒受傷了，她的同學花輪趕緊扶她到保健室。

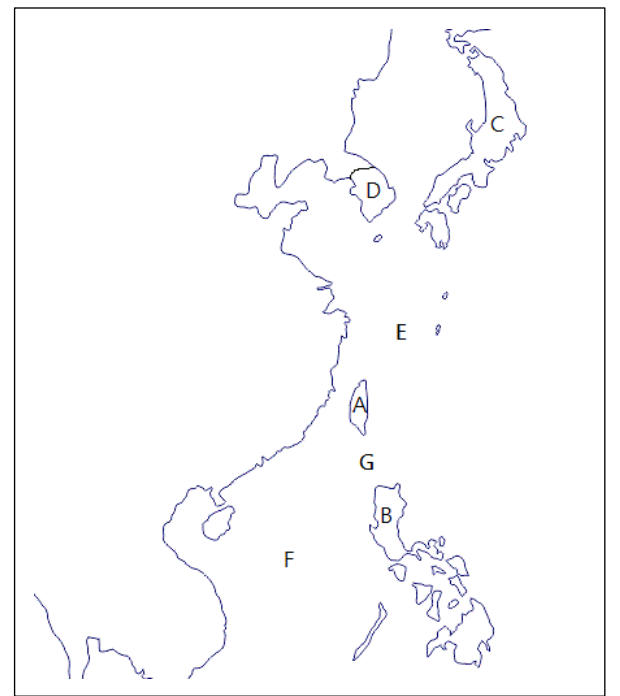
五、配合題(每格 2 分，14 分)

作答說明：右圖中有 A、B、C、D、E、F、G 等 7 個地名，請從下方框框內的選項找出他們的正確地名，並填在下方的格子內。

甲. 越南 乙. 菲律賓 丙. 日本 丁. 南韓 戊. 北韓 己. 臺灣  
庚. 東海 辛. 北海 壬. 南海 癸. 臺灣海峽 ㄎ. 巴士海峽

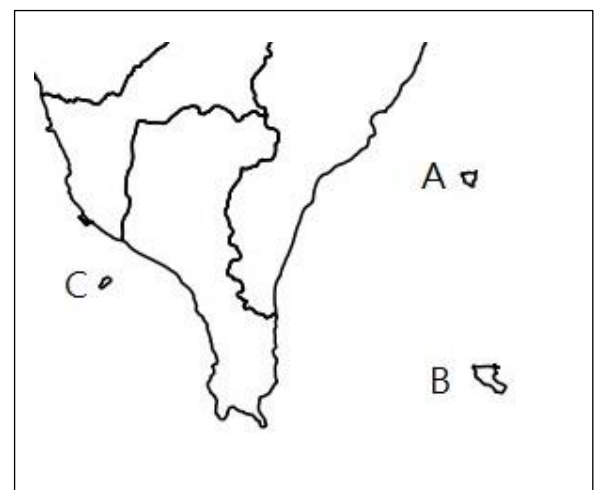
A: ( ) B: ( ) C: ( ) D: ( )

E: ( ) F: ( ) G: ( )



六、閱讀文章後作答(每格 2 分，12 分)

新年快到了，阿比的爸爸提議全家去蘭嶼跨年。  
為了安排行程，阿比查找了有關蘭嶼的資料，他找到了如右圖的地圖，並在閱讀資料後，發現蘭嶼除了位置特殊之外，還有其他非常有趣的特色。於是，他規劃了如下的三天行程：  
第一天：搭船前往蘭嶼，入住當地原住民經營的民宿，晚上倒數跨年。  
第二天：看新年的第一道曙光，迎接新年的第一個日出。參觀蘭嶼的傳統住屋——地下屋，並欣賞由蘭嶼原住民女子演出的傳統舞蹈。  
第三天：參觀蘭嶼文物館，館內除了介紹蘭嶼原住民的歷史，也展示了他們具有特色的工具器物。



- ( ) 1. 請問，經營這間民宿的原住民屬於以下何族？①阿美族 ②雅美族 ③泰雅族 ④賽夏族
  - ( ) 2. 第二天，阿比一家起個大早，來到海邊等待新年的第一道日出曙光，終於，太陽從海的那一端緩緩上升出現。請問，阿比看到的海是以下何者？ ①臺灣海峽 ②南海 ③太平洋 ④大西洋
  - ( ) 3. 蘭嶼因為風大，當地原住民有一種傳統建築叫做地下屋。地下屋從地面上看只看得到屋頂，其餘屋子的主要部份都蓋在地下。由於只有屋頂露出地面，能有效抵禦強風對房子的破壞。根據上面的敘述，這種地下屋建築的存在，是受到以下何者的影響？ ①法律 ②風俗習慣 ③宗教信仰 ④氣候
  - ( ) 4. 阿比一家第二天的行程中可能觀賞到什麼舞蹈？ ①頭髮舞 ②豐年祭舞 ③踢踏舞 ④祈福舞
  - ( ) 5. 阿比一家可能在蘭嶼文物館內看到以下何者？①布袋戲偶 ②扁擔 ③毛筆 ④拼板舟
6. 請問，上面的地圖中，A、B、C 何者是蘭嶼？

答：\_\_\_\_\_。