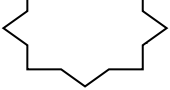




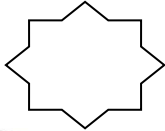
基隆市五堵國民小學 113 學年度第一學期期末評量一年級數學科試卷

班級： 座號： 姓名： 得分： 家長簽章：

假日的早上吃完早餐後，爸爸答應小真只要她完成作業，就可以和全家一起去市場買菜。

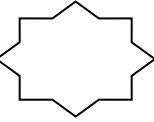
一、先填入時間，再用 1、2、3 表示事情發生的先後順序並填入  中
(每個空格 2 分；共 12 分)

1、買菜




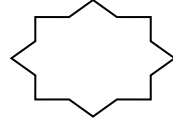
上午 () 點半

2、刷牙



上午 () 點半

3、寫功課



上午 () 點半

二、第一站，他們來到賣蔬果的攤位，他們買了 3 把空心菜、6 顆蘋果、5 把小白菜、4 顆火龍果。(每個算式 2 分、答案 1 分；共 12 分)

1、請問他們總共買了幾把青菜？(請寫出算式及答案)

算式：

() 把青菜

2、請問他們總共買了幾顆水果？(請寫出算式及答案)

算式：

() 顆水果

3、小真看到了她最喜歡的柳丁，老闆以特價 7 元賣給小真，小真拿了 10 元給老闆，請問老闆要找回幾元給她？(請寫出算式及答案)

算式：


() 元

4、後來媽媽決定買 2 顆橘子，橘子每顆 4 元，請你幫她算出要給老闆多少錢？(請寫出算式及答案)

算式：

() 元


三、第二站，他們來到小真最喜歡的甜點攤位，沒想到這個攤位前面已經排了一些人。(1-5 題每個空格 2 分；共 14 分)



1、小真接著往後排，她會排在第 ()

個；哥哥排在小真後面，哥哥排在第

() 個。




2、小真要等前面 () 個人買完才會輪到她。

3、小真往前看了看，發現表姐也在排隊，表姐排在第()個。

4、接著，小真又發現同學小誠也在排隊，小誠排在第()個。

5、等小真買到甜點，她發現手錶的長針已經走了一圈，她是在()點開始排隊，在()點買到甜點。



開始排隊



買到甜點

(6、7 題；畫○及算式各 2 分、答案 1 分；共 10 分)

6、小真想買一個9 元的紅豆大福，但是她只有3元，她不夠多少元？(先畫○並寫出算式做看)

畫○：

算式：

不夠 () 元

7、小真買了一個紅豆大福，哥哥買了4個花生大福，媽媽買了5個芝麻大福，請問哥哥和媽媽共買了幾個大福？(先畫○並寫出算式做看)

畫○：


算式：

買了 () 個大福

四、買完大福，他們才發現爸爸不見了，原來爸爸趁機去買過年的糖果。回到家裡，爸爸請小真和哥哥整理混在一起的糖果。(每一個答案2分；共16分)

請你先幫他們把10個糖果圖起來，再數數看每一種糖果有多少顆。

1、




() 顆

2、



() 顆

3、



() 顆

4、上面的糖果， 比 (多, 少)。

5、上面的糖果，最少的是 (, ,)

五、完成爸爸給的任務後，媽媽陪小真練習心算卡，請你跟小真一起把心算卡的答案連到正確的位置；（每一個答案2分；共20分）

7+2

*

6+0

*

1+7

*

2+2

*

5+5

*

*

*

*

*

*

6

*

9

*

8

*

10

*

4

*

*

*

*

*

*

7-1

10-0

9-5

10-1

8-0

六、圈出正確的答案（每一個答案2分；共16分）

1、晚上睡覺前，小真發現今天過得很快樂，只有（排隊買甜點、整理糖果）所花的時間比較長。

2、漸漸的，在數羊的聲音中，小真慢慢的進入夢鄉。

請你按照順序幫小真把空格填上。



恭喜你完成測驗，要記得再多檢查幾遍哦！