

班級：

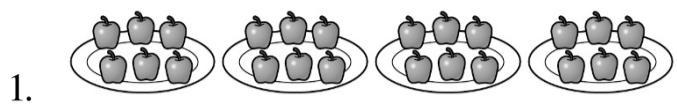
座號：

姓名：

得分：

家長簽章：

一、填填看看：70 % (15.16.17.18 題 2 分)



1. 連加算式：
乘法算式： $() \times () = ()$ ，共有 $()$ 個蘋果。

2. $8+8+8+8+8+8 = () \times () = ()$ 。
乘法算式中的被乘數是 $()$ ，乘數是 $()$ ，積是 $()$ 。

3. 3 的 6 倍比 3 的 3 倍多 $()$ 個 3，是 $()$ 多 $()$ 。

4. 7×2 比 7×5 少 $()$ 個 7，是 $()$ 少 $()$ 。

5. 2 的 10 倍是 20，所以 $2 \times 11 = ()$

6. 完成下面的算式

(1) $9 \times 6 = ()$ (2) $6 \times 7 = ()$

(3) $3 \times 5 = ()$ (4) $8 \times 8 = ()$

7. 誰出的問題是 9×7 呢？在 \square 裡打 \checkmark 。6 分

豆豆：爸爸要買 9 顆茶葉蛋，每顆茶葉蛋賣 7 元，共要付多少元？

妙妙：球場旁設有 7 排座位，每排可以坐 9 個人，共可以坐幾個人？

奇奇：一個籃子裡有 9 顆柳丁，7 籃共有幾顆柳丁？

8. 一袋糖果有 8 顆，3 袋糖果有幾顆？對的打 \checkmark 。4 分

3 的 8 倍 8 的 3 倍

3×8 顆 8×3 顆

9. 時針指在 3 和 4 的刻度之間，分針指在鐘面數字 11 的位置，是 $()$ 點 $()$ 分。

10. 看看圖填填看看。

1. () 時 () 分	2. () 時 () 分
3. () 時 () 分	4. :

11. 右圖的時鐘是 $()$ 時 $()$ 分，分針再走 3 大格就是經過了 $()$ 分，是 $()$ 時 $()$ 分。



12. 圖中是小朋友到校的時間，請依照他們到校的先後順序寫出

1.2.3

 ()	 ()	 ()
---------	---------	---------

13. 現在是上午 9 時，再過 2 小時書店才開始營業，書店開始營業的時分是什麼時候？上午 $()$

14. 到 在動物園玩。分針走了 $()$ 圈，時針從 $()$ 走到 $()$ ，共走了 $()$ 大格，是經過 $()$ 小時。

15. 下圖中哪一個茶壺的容量最大？



16. 兩個小朋友比賽喝水，兩個杯子一樣大，而且都裝滿了水。誰喝的多？請打√

() 1號同學

() 2號同學

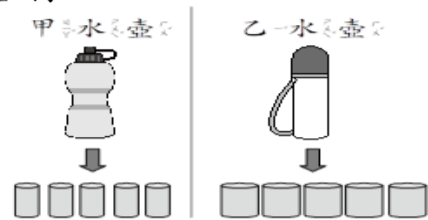


17. 把甲、乙兩個水壺都裝滿水後，分別倒入杯子裡，哪一個水壺裝的水比較少？請打√

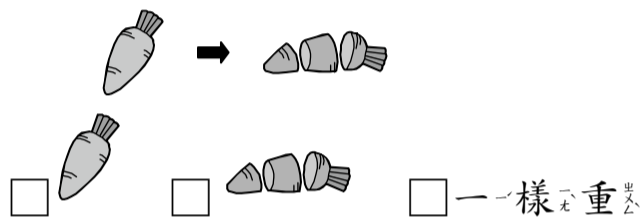
() 甲水壺

() 乙水壺

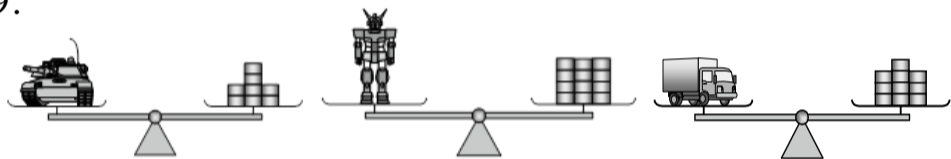
() 一樣多




18. 哪一個比較重？在□裡打√。
一根胡蘿蔔切成3塊。





19.

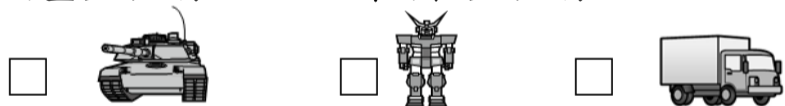


 和 () 個  一樣重。

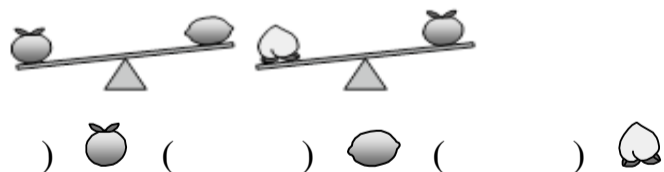
 和 () 個  一樣重。

 和 () 個  一樣重。

最重的打√，最輕的打×



20. 由重到輕寫上1、2、3。



二、算算看：妮妮要開同學聚會，她要用零錢買點心。10% (第2題4分)
用乘法算式把做法記下來。

1. 妮妮的錢包裡有9個5元硬幣，她一共有多少元？

答：

2. 接第1題，商店裡一枝紅豆冰6元，一杯巧克力冰沙的價錢是一枝紅豆冰的8倍，一杯巧克力冰沙賣幾元？妮妮的錢夠買巧克力冰沙嗎？

答：1. () 元

2. () 夠 () 不夠

3. 妮妮買了4根棒棒糖，一根棒棒糖賣7元，她要付多少元？

答：

三、應用題。20%

1. 哥哥有32元，弟弟有36元，兩個人想合買一張95元的卡牌，不夠多少元？

答：

2. 哥哥收集了46張卡片，弟弟收集的卡片比哥哥多17張，兩個人收集的卡片共有幾張？

答：

3. 姐姐買了54元的餅乾、35元的牛奶，和49元的巧克力，她一共花了多少元？

答：

4. 一個水蜜桃79元，一個蘋果比一個水蜜桃便宜34元，一個柳丁比一個蘋果便宜18元，一個柳丁多少元？

答：

5. 豆豆、妙妙和奇奇三人共有96張獎卡，其中豆豆有32張，妙妙有36張，奇奇有幾張獎卡？

答：

