

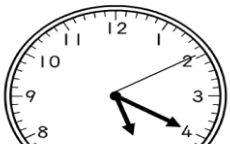
基隆市五堵國民小學一〇七學年度第二學期第一次多元評量三年級數學領域試卷

班級： _____ 座號： _____ 姓名： _____ 得分： _____ 家長簽章： _____

一、**選擇題**：請在四個選項中，選出最適合的答案。(每題1分，共5分)

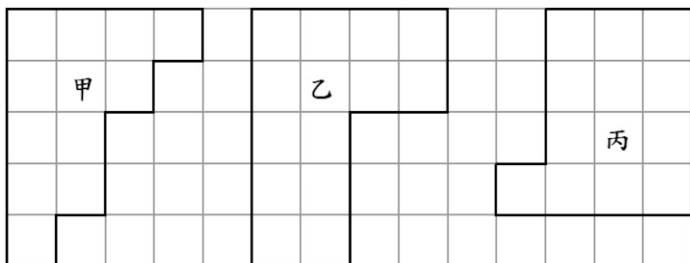
- () 測量家裡浴缸的容量，要用哪一種單位比較適當？ ①毫升 ②公斤 ③公升 ④公分
- () 下面哪一個算式的商是三位數？ ① $848 \div 8$ ② $261 \div 7$ ③ $300 \div 5$ ④ $297 \div 3$
- () 分針在鐘面上從數字6走到數字9，是經過了多少時間？①3小時 ②15分鐘 ③3分鐘 ④5分鐘
- () 小明有12元，哥哥的錢是小明的3倍，姐姐的錢是哥哥的2倍，請問姐姐有多少錢？ ①24元 ②36元 ③60公尺 ④72元。
- () 下面生活中的物品中，哪個的面積最大？①桌面②操場③聯絡簿④班上的教室。

二、**填填看**：請將正確答案填入()中。(每格2分，共48分)

- $7 \times 40 = ()$ $50 \times 20 = ()$ $8 \times 200 = ()$ $320 \times 2 = ()$
- 「 6×6 」的積比「 60×60 」的積，少()個0。
- 小張、小劉和小陳三人比賽賽跑，三人抵達終點時，碼表的時間如下，誰跑得最快？在□中打✓：
小張：15秒鐘 小劉：13秒鐘 小陳：18秒鐘
- 9070毫升 = () 公升 () 毫升；6公升7毫升 = () 毫升。
- 1瓶養樂多的容量是100毫升，5瓶養樂多共有() 毫升。
- $872 \div 8 = ()$ ； $108 \div 9 = ()$
- $3400 \text{ 毫升} + 4600 \text{ 毫升} = ()$ 公升
- 

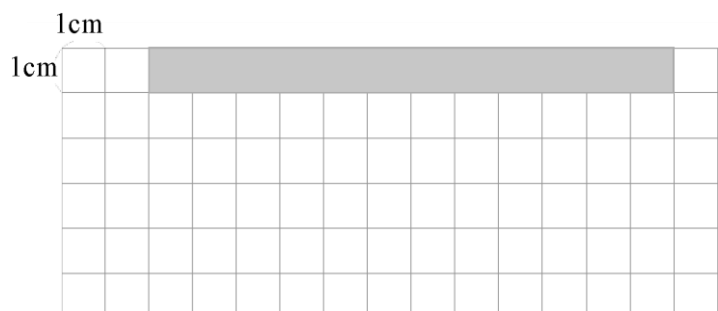
(1)現在是下午()時()分()秒，
用24時制表示是()時()分。
(2)2分鐘前是下午()時()分。

9. 假設每個□是1平方公分，請寫出下列三個圖形的面積(要寫單位)



甲：()，
乙：()，
丙：()。

10.在方格紙上畫出一個和右圖相同面積但不同形狀的長方形。



三、算算看(每格1分,共14分)

①5公升+7公升30毫升

= () 毫升 + () 毫升

= () 毫升

②3 l - 70 ml

= () ml - 70 ml

= () ml

③40×8 = ()

8×40 = ()

4×800 = ()

④7÷5 = () ... ()

70÷5 = () ... ()

700÷5 = () ... ()

四、計算題：請寫出直式計算出答案。(每題2分,共12分)

(1) 807 ÷ 7 =

(2) 70 × 50 =

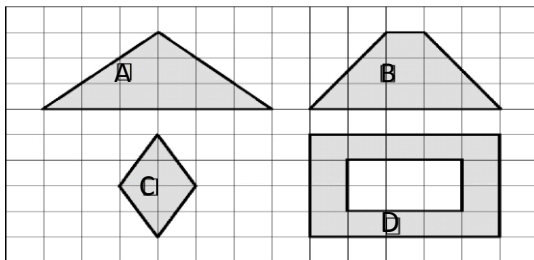
(3) 50 ÷ 3 =

(4) 26公升30毫升 + 23公升70毫升 =

(5) 9×47 =

(6) 7×82 =

五、看圖回答問題：請用代號回答問題(每題2分,共12分)



1. 圖形面積由大到小排列順序是：

() > () > () > ()

2. 圖形面積最大的是 ()

3. 圖形面積最小的是 ()

六、應用題：請寫出算式及答案。(每題3分,共9分)

1. 小李跟著自行車隊騎車,上午11時40分從淡水出發,下午2時20分到達新莊,小李共騎了幾小時幾分鐘?

2. 三年級共有118位小朋友和老師到動物園戶外教學,動物園遊園車最多只能坐7個人,請問要等到第幾輛車才能載全部的人?

3. 500毫升的西瓜汁賣20元。哥哥的杯子能裝500毫升、我的杯子能裝1公升,請問要裝滿我們兩個人的杯子總共要付多少錢?